

**BAYRAKLI BELEDİYESİ PERSONEL HİZMETLERİ SAN. VE TİC. A.Ş.
ANAOKULLARI ÖĞRETMEN SEÇME SINAVI**

ÖĞRETMENLİK MESLEK BİLGİSİ SORULARI

1. Orman Okulları ile ilgili olarak aşağıdakilerden hangisi söylenemez?

- A. Doğadaki deneyimlerin okul dışına taşınmasına dalgalanma etkisi denir.
- B. Geleneksel eğitim ile harmanlanabilir uygulamalar vardır.
- C. Mutlaka düzenli ve uzun süreli doğa ziyaretleri gerektirir.
- D. Çocukların doğada riskli oyunlar oynaması önerilmez.
- E. Mutlaka yeterli sayıda yetişkin ile uygulama gerektirir.

2. Reggio Emilia yaklaşımının kuramsal temellerini oluşturan eğitimci kimdir?

- A. Maria Montessori
- B. Rudolf Steiner
- C. Friedrich Wilhelm August Fröbel
- D. Reggio Emilia
- E. Loris Malaguzzi

3. “Bu okullar antropozofi felsefesine dayandırılmıştır. Çocuğun bir bütün olarak gelişmesine odaklanırlar ve bu noktada baş, kalp ve eller üzerinden hareket ederler. Eğitim programı içerisinde sanat çok önemli bir yerde konumlandırılır. Çocuğun öğretmenin uzun süre aynı kalması gerektiği düşünülür.”

Yukarıda sözü edilen okulların kurucusu olan filozof kimdir?

- A. Rudolf Steiner
- B. Lev Vygotsky
- C. Maria Montessori
- D. Jean Piaget
- E. Alexander Sutherland Neill

4. “Eğitimde ruhsal geliştirmeciliğin temsilcilerindedir ve diğer araştırmacılardan farklı olarak önce uygulamalar yapmış sonra bu uygulamalardan kendi yöntemini geliştirmiştir. Duyu eğitimine ayrı bir önem vermiştir. Öğretmeni çocuk ile materyal arasında bir bağlantı olarak tanımlar.”

Yukarıda söz edilen eğitimci kimdir?

- A. Yaacov Hecht
- B. Maria Montessori
- C. Lev Vygotsky
- D. Lev Tolstoy
- E. Loris Malaguzzi

5. Aşağıdakilerden hangisi eleştirel pedagoji için söylenemez?

- A. Eğitim sorunlarını sistematik olarak tartışan bir eğitim yorumudur.
- B. Önemli öncülerinden biri Paulo Freire’dir.
- C. Güçlü bir kuramsal temeli olmasına karşın uygulama örnekleri yoktur.
- D. Savunucuları ağırlıklı olarak ayrımcılık ve yoksulluk meselelerine odaklanır.
- E. Özgürlük, demokratikleşme ve sosyal adalet, amaçları arasındadır.

6. Aşağıdakilerden hangisi Reggio Emilia yaklaşımı için doğru değildir?

- A. Sınıf içinde basamaklar oluşturularak farklı yükseklikler elde edilmelidir.
- B. Sınıfta farklı boyutlarda bolca ayna bulundurulmalıdır.
- C. Kendiliğinden gelişen bir program anlayışı hakimdir.
- D. Öğrenme ortamında canlı renkler yoğun olarak kullanılmalıdır.
- E. Dokümantasyon, programı şekillendiren bir planlama aracıdır.

BAYRAKLI BELEDİYESİ PERSONEL HİZMETLERİ SAN. VE TİC. A.Ş.
ANAOKULLARI ÖĞRETMEN SEÇME SINAVI

7. Dünyada alternatif uygulamalar yapan okullara olan ilgi gün geçtikçe artmakta böylece hem uygulama örnekleri hem de araştırmalar gelişmektedir.

Aşağıdakilerden hangisi bu ilginin nedeni olamaz?

- A. Küresel iklim krizi
- B. Endüstri dünyasındaki değişim
- C. Eğitim sistemlerindeki sorunlar
- D. Tüm dünyayı etkileyen ekonomik krizler
- E. Mesleklerin belli bir alanda uzmanlaşma gerektirmesi

8. Çocuğun dünyayı anlama ve kendini ifade etme yollarının zenginliğini anlatan “Çocuğun 100 Dili” adlı eser hangi eğitimciye aittir?

- A. Loris Malaguzzi
- B. Lev Vygotsky
- C. Maria Montessori
- D. Jean Piaget
- E. Abraham Maslow

9. “Görüşleri alternatif eğitim tarihini etkilemiş önemli bir filozof ve yazardır. O’na göre insan için gerekli olan tek şey yaşamayı öğrenmektir. Emile adlı eserinde eğitim sisteminin çocuğun yeteneklerini körelttiğini ve bu yeteneklerin ortaya çıkabilmesinin koşulunun bireyin özgür olması olduğunu savunur.”

Yukarıda sözü edilen filozof aşağıdakilerden hangisidir?

- A. John Dewey
- B. Jean Jacques Rousseau
- C. Friedrich Wilhelm August Fröbel
- D. Johann Heinrich Pestalozzi
- E. Ivan Illich

10. Alternatif uygulamalara yer veren demokratik bir okulda aşağıdaki öğretmen özelliklerinden hangisi daha az ön plana çıkar?

- A. Çocukların karar alma süreçlerini tehlikeleri öngörerek gerçekleştirmek
- B. Demokratik tutum ve davranışlar konusunda model olmak
- C. Çocukların fikirlerini ifade edebilmesi için ortam sunmak
- D. Çocuk katılımı mekanizmalarını okul işleyişinin bir parçası haline getirmek
- E. Çocuğun kendini güvende hissedeceği bir ortam yaratmak

11. Aşağıdakilerden hangisi çokkültürlü öğretmen yeterlikleri arasında değildir?

- A. Sınıfındaki farklı kültürel özellikleri fark eder.
- B. Baskın kültürel değerleri kazandıracak programlar düzenler.
- C. Farklı kültürlerden gelen çocuk ve ailelerle çalışabilir.
- D. Kültürel farklılıkları dikkate alan bir dil kullanır.
- E. Kendi kültürel kimliğini tanıır.

**BAYRAKLI BELEDİYESİ PERSONEL HİZMETLERİ SAN. VE TİC. A.Ş.
ANAOKULLARI ÖĞRETMEN SEÇME SINAVI**

12. “Eğitimcinin rolü öğrenenden bağımsız olarak var olan bilgiyi öğrenene aktarmaktır. Buna göre eğitimci, sistem sınavları, puanlama ölçütleri ve sınıf ortamları ile otoritenin gücünü destekler. Tüm eleştirilere rağmen mesleki ve teknik eğitim, dini eğitim ve hatta bazı alternatif eğitim ortamlarında bu modele ihtiyaç duyulmaktadır.”

Miller’ın alternatif eğitim akımlarını sınıfladığı çalışmasında tarif ettiği bu model aşağıdakilerden hangisidir?

- A. Sosyal oluşturmecilik modeli
- B. Sosyal geliştirmecilik modeli
- C. Aktarım modeli
- D. Okulda öğrenme modeli
- E. Bütüncül eğitim modeli

13. Gelişim dönemleri dikkate alındığında aşağıda verilen ifadelerden hangisi doğru değildir?

- A. Her gelişim dönemi kendisinden öncekine dayanır, kendisinden sonrakini hazırlar.
- B. Büyümek için olgunlaşmaya ihtiyaç yoktur.
- C. Kalıtsal özellikler gelişim dönemlerini etkiler.
- D. Büyüme olgunlaşmayı, olgunlaşma hazırbulunuşluğu, hazırbulunuşluk öğrenmeyi sağlar.
- E. Bir gelişim görevi kritik zamanda başarılmazsa sonradan başarılmaz.

14. Çocuklar çevreden edindikleri deneyimleri geçmişten getirdikleri tecrübeleriyle bütünleştirerek zihinsel yapılarını tekrar tekrar düzenlerler. Bu yapılar bazen yeni yapıların oluşmasıyla bazen de bu yapının düzenlenmesiyle gerçekleşir.

Yukarıdaki açıklama hangi gelişimsel kavrama aittir?

- A. Büyüme
- B. Uyumsama
- C. Deneyim
- D. Şema
- E. Özümseme

15. Erikson’a göre kişilik gelişiminde bir evre olan özerklik aşaması hangi yaş döneminde gözlenir?

- A. İlk çocukluk
- B. İkinci çocukluk
- C. Ergenlik
- D. Yetişkinlik
- E. Yaşlılık

16. Piaget’nin bilişsel gelişim kuramı kapsamında işlem öncesi dönemin temel özellikleri düşünüldüğünde çocuğun aşağıdakilerden hangisini yerine getirmesi beklenilmez?

- A. Nesnelere ve sözcükleri ilişkilendirebilir.
- B. Tersine çevirme işlemini yapamazlar.
- C. Bir nesne görüş alanından kaybolduğunda yok olmadığını bilir.
- D. Nesnelere özelliklerine göre sınıflayabilir.
- E. Hipotetik koşullara bağlı olarak düşünebilir.

**BAYRAKLI BELEDİYESİ PERSONEL HİZMETLERİ SAN. VE TİC. A.Ş.
ANAOKULLARI ÖĞRETMEN SEÇME SINAVI**

17. Çocukluk dönemindeki tuvalet eğitimi büyük önem taşımaktadır. Verilecek eğitim esnasında çocuğun bakımından sorumlu olan kişilerin yoğun baskı uygulaması sorunlara yol açabilecek bir duruma neden olacaktır.

Freud'a göre anal dönemde çocuğa verilecek tuvalet eğitimi bu yaklaşımla verilirse çocukta hangi kişilik özelliğinin temelleri atılmış olur?

- A. Suçluluk
- B. Temel güvensizlik
- C. Durgunluk
- D. Utanç ve kuşku
- E. Kimlik karmaşası

18. Kendi anadilini etkili kullanabilen bir birey yurtdışına gittiğinde doğal olarak yeni dili öğrenirken zorluklar yaşayabilir. Ancak burada geçirdiği uzun süre ve dili günlük yaşamda kullanması öğrenmeye çalıştığı dili de etkili kullanmasını sağlayacaktır. Yabancı dili öğrenen ve bunu uzun süre kullanan bireyler kendi ana dillerine döndüklerinde ise anadillerini kullanırken bazı sorunlar yaşayabilmektedirler.

Bu durum aşağıdakilerden hangisi ile ifade edilebilir?

- A. İleriye ket vurma
- B. Genelleme
- C. Geçiş
- D. Geriye ket vurma
- E. Ayırt etme

19. İlk çocukluk döneminde geçirilen yaşantıların ilerleyen yıllarda hatırlanması zor olsa da bilişsel süreçte önemli izler bırakıp bireyin kişiliğinde önemli bir yer edinmektedir.

Bu yaşantılar uzun süreli bellekte nerede saklanır?

- A. Epizodik bellek
- B. İşleyen Bellek
- C. Kısa Süreli Bellek
- D. Duyusal Bellek
- E. Semantik Bellek

20.

- I. Gestalt Kuramı
- II. İçgörüsül Öğrenme
- III. Bağlaşımcılık
- IV. Operant Koşullanma
- V. Bilgiyi İşleme Kuramı

Yukarıdaki öğrenme kuramlarından hangisi ya da hangileri diğerlerine göre farklı bir sınıflandırma içerisinde yer alabilir?

- A. I ve III
- B. Yalnız V
- C. II, IV ve V
- D. III ve IV
- E. Yalnız I

**BAYRAKLI BELEDİYESİ PERSONEL HİZMETLERİ SAN. VE TİC. A.Ş.
ANAOKULLARI ÖĞRETMEN SEÇME SINAVI**

21. Aşağıdakilerden hangisi en etkili pekiştirme tarifesi olarak tanımlanabilir?

- A. Değişken aralıklı pekiştirme
- B. Sürekli pekiştirme
- C. Değişken oranlı pekiştirme
- D. Sabit oranlı pekiştirme
- E. Sabit aralıklı pekiştirme

22.

- I. Yemek pişirme hareketlerini sembolleştirip kodlamak
- II. Bir aşçının yemek yapma hareketlerini izlemek
- III. Yemek yapmaya çalışmak
- IV. Yemek yapmayı başardıktan sonra kendini ödüllendirmek

Yukarıda yer alan maddeler dikkate alındığında aşağıdaki seçeneklerden hangisinde öğrenme süreci baştan sona doğru sıralanmıştır?

- A. I. II. III. IV
- B. III. II. I. IV
- C. II. III. I. IV
- D. I. III. II. IV
- E. II. I. III. IV

23. Yapılan tüm araştırmalar kaygı ve öğrenme arasında bir ilişki olduğunu göstermektedir. Kaygının öğrenme üzerindeki etkisi düşünüldüğünde hangisi diğerlerine göre genelde daha üst düzeyde öğrenmeyi destekler?

- A. Çok yüksek düzeye yakın
- B. Çok düşük düzeye yakın
- C. Orta düzey
- D. Çok yüksek
- E. Çok düşük

24. Öğrenmeyi doğrudan ve dolaylı etkileyen etmenler vardır. Aşağıdakilerden hangisi öğrenmeyi doğrudan etkileyen faktörler içerisinde yer almaz?

- A. Olgunlaşma
- B. Güdülenme
- C. Yaş
- D. Zeka
- E. Algısal ayırt edilebilirlik

25. Melis öğretmen, oyun etkinliği ile çocuklarda “nesne veya varlıkları özelliklerine göre sıralar” kazanımına yönelik çalışmalar gerçekleştirmiştir. Süreç içerisinde sınıfındaki bazı öğrencilerin sıralama konusunda zorluk yaşadığını fark etmiş ve farklı etkinlikler aracılığıyla söz konusu kazanımı tekrar tekrar ele almıştır.

Melis öğretmenin bu yaklaşımı, 2013 MEB Okul Öncesi Eğitim Programının temel özelliklerinden hangisiyle açıklanabilir?

- A. Temalar/konular amaç değil araçtır.
- B. Oyun temellidir.
- C. Sarmaldır.
- D. Esneklik.
- E. Dengelidir.

BAYRAKLI BELEDİYESİ PERSONEL HİZMETLERİ SAN. VE TİC. A.Ş.
ANAOKULLARI ÖĞRETMEN SEÇME SINAVI

26. Çocuklara çeşitli renklerde 3-5 adet küçük kart ya da kâğıt parçasından oluşmuş desteler dağıtılır. Her renge bir anlam verilir. Örneğin, mavi katılıyorum, beyaz kararsızım, sarı katılmıyorum... Daha sonra öğretmen işlenen konuyla ilgili bazı cümleler okur. Bu cümleleri dinleyen çocuklar hangi kartı seçeceklerini düşünürler ve seçtikleri kartı sıranın üstüne koyarak niçin o kartı seçtiklerini açıklarlar.

Yukarıda tanımlanan uygulama basamakları aşağıdaki aktif öğrenme tekniklerinden hangisine aittir?

- A. Altı Şapkalı Düşünme Tekniği
- B. Pazaryeri
- C. Akvaryum
- D. Duydunuz mu?
- E. Kart Gösterme

27. Tuna Bey, 2 yaşındaki oğlu için parlak renkli, kalın çizgiler ile sınırlandırılmış resimlerle ev ortamındaki eşyaları, kişileri ve ağaç, çiçek, hayvan gibi doğal çevre öğelerini tanıtan, metin olarak yalnızca bunların isimlerinin yazılı olduğu ya da tamamen yazısız olan çocuk kitabı almıştır.

Tuna Bey'in kitapçıdan aldığı bu kitap türü aşağıdakilerden hangisidir?

- A. Etkinlik kitabı
- B. ABC kitabı
- C. Oyuncak kitap
- D. Resimli öykü kitabı
- E. Bez kitap

28. Bu program "Hiçbir çocuk geride kalmasin" sloganıyla düşük gelir düzeyine sahip ailelerden gelen çocuklara sosyal ve eğitimsel fırsatlar sağlayarak yoksulluğun olumsuz etkilerinin engellenmesini amaçlamaktadır. Program, eğitim, sağlık, ebeveyn katılımı ve sosyal hizmetler olmak üzere dört temel alandan oluşmaktadır.

Yukarıda yer alan açıklamalar aşağıdaki okul öncesi eğitim yaklaşımı ya da programından hangisine aittir?

- A. Head Start
- B. Reggio Emilia
- C. Bank Street
- D. High Scope
- E. Pikler

29. Ali Öğretmen çocuklara itfaiyeci mesleğini tanıtmak amacıyla itfaiye merkezine gezi düzenlemiştir. Gezi dönüşünde süreci değerlendirmek adına çocuklara şu soruları yöneltmiştir:

- İtfaiye merkezine nasıl gittik?
- İtfaiye merkezinde neler gördük?
- Bugün gittiğimiz itfaiye merkezinde en çok hangi renk vardı?

Buna göre, Ali Öğretmen gezi sonunda çocuklara hangi türde tartışma soruları yöneltmiştir?

- A. Duyuşsal sorular
- B. Kazanımlara yönelik sorular
- C. Yaşamla ilişkilendirme soruları
- D. Betimleyici sorular
- E. Bilişsel sorular

BAYRAKLI BELEDİYESİ PERSONEL HİZMETLERİ SAN. VE TİC. A.Ş.
ANAOKULLARI ÖĞRETMEN SEÇME SINAVI

30. Buse Öğretmen “anne-baba tutumları” konusunda ebeveynlerine yönelik bir eğitim düzenlemiştir. Anne baba tutumları ile ilgili bilgilendirme gerçekleştirdikten sonra ebeveynleri iki gruba ayırmış ve bir çocuğun istenmeyen davranış sergilediği bir fotoğraf göstererek söz konusu durumu açıklamıştır. Birinci grupta yer alan ebeveynlerin otoriter tutumu, ikinci grupta yer alan ebeveynlerin demokratik tutumu benimseyen ailenin durum karşısında verebileceği tepkileri tartışmalarını istemiştir. Grup üyelerinden tartışma sonunda görüşlerini diğer gruba aktarmasını belirtmiştir.

Buna göre, Buse Öğretmen aile eğitiminde kullanılan yöntem ve tekniklerden hangisini uygulamıştır?

- A. Örnek olay
- B. Rol oynama
- C. Demonstrasyon
- D. Tuğla duvarı
- E. Beyin fırtınası

31. Bu oyun türü çocukların taklit, hayal kurma, mış gibi yapma, empati gibi becerilerini destekler. Oyun sürecinde çocuklar, anne, baba, doktor, öğretmen gibi yetişkin rollerine girerek zengin hayal güçlerini kullanırlar.

Yukarıda yer alan bilgiler aşağıdaki oyun türlerinden hangisine aittir?

- A. Yapı-İnşa oyunu
- B. Fiziksel oyun
- C. Dramatik oyun
- D. Kurallı oyun
- E. Doğal materyallerle oyun

32. Bu evrede çocuğun haz kaynağı cinsel organıdır. Çocuklar bu dönemde artık sosyalleşmeye başlar ve cinsiyetler arasındaki farklılıkları merak eder. Kız çocuklarının babaya, oğlan çocuklarının anneye ilgi duyduğu görülür. Freud’a göre çocuğun bu dönemi olumlu bir şekilde atlatması sağlıklı rol modele sahip hemcinsi ile özdeşim kurması ile mümkündür.

Yukarıda yer alan açıklama Freud’un psikoseksüel gelişim evrelerinden hangisine aittir?

- A. Anal evre
- B. Oral evre
- C. Genital evre
- D. Fallik evre
- E. Gizil evre

33. Öğretmenin, çocuğun bütün gelişim alanlarını kapsayan bilgi, beceri, tutum ve alışkanlıklarını genel bir biçimde özetlediği, bilgileri analiz ederek değerlendirdiği ve ailelere önerilerde bulunduğu, dönem sonlarında olmak üzere yılda iki kez hazırlanan çocuk değerlendirme yöntemlerinden biridir.

Yukarıdaki tanım, 2013 MEB okul öncesi eğitim programında çocukların değerlendirilmesinde kullanılan hangi yöneme aittir?

- A. Anekdot
- B. Portfolyo
- C. Gelişim gözlem formu
- D. Gelişim dosyası
- E. Gelişim raporu

BAYRAKLI BELEDİYESİ PERSONEL HİZMETLERİ SAN. VE TİC. A.Ş.
ANAOKULLARI ÖĞRETMEN SEÇME SINAVI

34. Bu teknikte amaç, çocukların kendi bedenlerini kullanarak üç boyutlu hareketsiz görüntüler ortaya çıkarmalarıdır. Çocuklar drama esnasında verilen bir duruma yönelik olarak hareketsiz görüntüler oluştururlar ve bu görüntüler diğer çocuklar tarafından yorumlanır.

Yukarıda yer alan açıklama, dramada kullanılan tekniklerden hangisine aittir?

- A. Donuk imge
- B. Rol oynama
- C. Rol değiştirme
- D. Sözsüz oyun
- E. Rol koridoru

35. Mehmet öğretmen matematik etkinliği sırasında çocuklara değişik hayvan sesleri dinletirken kedilerin miyavlamalarını saymalarını istemiştir.

Mehmet Öğretmen bu etkinlikte sayma ilkelerinden hangisini uygulamıştır?

- A. Birebir ilkesi
- B. Sabit sıra ilkesi
- C. Çocukluk ilkesi
- D. Sıradan bağımsız olma ilkesi
- E. Ayırma ilkesi

36. Aşağıdakilerden hangisi 2013 MEB okul öncesi eğitim programı aylık eğitim planında yer alan bölümlerden biri değildir?

- A. Kazanımlar ve göstergeleri
- B. Kavramlar
- C. Belirli gün ve haftalar
- D. Materyaller
- E. Alan gezileri

37. Aşağıdakilerden hangisi performans görevlerinin özelliklerindedir?

- A. Ürün ve süreç birlikte değerlendirilir.
- B. Dereceli puanlama anahtarı kullanılamaz.
- C. Görevler okul dışı zamanda yapılmalıdır.
- D. Puanlama kriterleri öğrenciler ile paylaşılabilir.
- E. Rekabetçi bir değerlendirme türüdür.

38. Öz ve akran değerlendirmenin öğrencilere sağladığı pek çok fayda bulunmaktadır.

Aşağıdakilerden hangisi öz ve akran değerlendirmenin doğrudan sağladığı faydalardan biri değildir?

- A. Öğrencilere değerlendirme becerisi kazandırır.
- B. Öğrenciler objektif değerlendirmeyi öğrenir.
- C. Üstbilişsel becerinin artmasını sağlar.
- D. Değerlendirme sürecini ve önemini kavrar.
- E. Eleştirel düşünme becerisine katkı sağlar.

39. Aşağıdaki seçeneklerden hangisi portfolyo oluşturma yararlarından biri değildir?

- A. Öğrencinin gelişim süreci izlenebilir.
- B. Öğretmene öğrencilerin yeterlikleri hakkında bilgi sağlar.
- C. Öğrenciye ait ödev, resim, proje gibi belgelerin birlikte incelenebilmesini sağlar.
- D. Öğrencilerin birbirlerine göre gelişimlerini karşılaştırır.
- E. Bir sonraki eğitim basamağına öğrenci bilgilerinin aktarılmasını sağlar.

**BAYRAKLI BELEDİYESİ PERSONEL HİZMETLERİ SAN. VE TİC. A.Ş.
ANAOKULLARI ÖĞRETMEN SEÇME SINAVI**

40. Dereceli puanlama anahtarları kullanmanın öğretmen ve öğrencilere çeşitli faydaları vardır.

Aşağıdaki seçeneklerden hangisi öğretmen yapımı bir sınavda dereceli puanlama anahtarları kullanmanın faydalarından biridir?

- A. Sınavın görünüş geçerliğini artırır.
- B. Öğretmenin kapsam geçerliği yüksek bir sınav yapmasına katkı sağlar.
- C. Sınavın iç tutarlılığını artırır.
- D. Sınavın soru sayısını artırdığı için geçerliği artırır.
- E. Puanlayıcı güvenilirliğini artırır.

41. Bir araştırmacı sayısal akıl yürütmeye ilişkin bir ölçme aracı geliştirmek istemektedir. Bu süreçte araştırmacı, ölçeği, Fen Lisesi ve Sosyal Bilimler Lisesi öğrencilerine uygulayıp bu grupların puanları arasındaki farkı incelemiştir.

Araştırmacı yaptığı bu inceleme ile neyi amaçlamaktadır?

- A. İç tutarlılığa ilişkin kanıt toplamayı
- B. Kapsam geçerliğini ispatlamayı
- C. Yapı geçerliğine ilişkin kanıt toplamayı
- D. Güvenirlik düzeyini belirlemeyi
- E. Objektif puanlama düzeyini kanıtlamayı

42. Lise öğrencilerinde sınav kaygısını inceleyen bir araştırmacı, aynı öğrenci grubuna iki ay ara ile Sınav Kaygısı Ölçeğini uygulamış ve elde edilen puanlar arasındaki korelasyonu incelemiştir.

Bu çalışma ile ilgili olarak aşağıdaki seçeneklerden hangisi doğrudur?

- A. Araştırmacı korelasyon değerinin negatif yönlü olmasını beklemektedir.
- B. Araştırmacı KR-21 hesaplayarak güvenilirliği belirlemek istemektedir.
- C. Bu çalışma ile ölçeğin görünüş geçerliği ispatlanmak istenmektedir.
- D. Araştırmacı kararlılık anlamında güvenilirlik katsayısı belirlemek istemektedir.
- E. Korelasyon sonucuna göre yordama geçerliği düzeyi belirlenmek istenmektedir.

43. Eda Öğretmen, öğrencilere ders sonunda eğitsel bir oyun oynatmıştır. Bu oyun ile işlenen dersin kazanımları ile ilgili olarak öğrencilerin kazanımların ne kadarına sahip olduğunu veya ne kadarından eksik kaldığını belirlemektedir. Öğrencilere herhangi bir not vermeyen Eda Öğretmen bir sonraki dersini eksik kalan kazanımları yeniden öğretmek için planlamıştır.

Amacı dikkate alındığında Eda Öğretmen'in kullandığı değerlendirme türü aşağıdakilerden hangisidir?

- A. Tanıma ve yerleşmeye yönelik değerlendirme
- B. Biçimlendirici değerlendirme
- C. Düzey belirleyici değerlendirme
- D. Değer biçmeye yönelik değerlendirme
- E. Mutlak değerlendirme

BAYRAKLI BELEDİYESİ PERSONEL HİZMETLERİ SAN. VE TİC. A.Ş.
ANAOKULLARI ÖĞRETMEN SEÇME SINAVI

44. T puanı 60 olan bir öğrenci için aşağıdakilerden hangisi söylenebilir?

- A. Aritmetik ortalamadan daha düşük puan almıştır.
- B. Sınavdaki soruların %60'ını doğru cevaplamıştır.
- C. Kazanımların %40'ına sahip değildir.
- D. Sınava giren öğrencilerden %60 daha fazla kazanıma sahiptir.
- E. Sınava giren öğrencilerin yaklaşık %84'ünden daha başarılıdır.

45. 100'er kişiden oluşan A ve B sınıflarına aynı Genel Yetenek Testi uygulanmıştır. Test sonucunda her iki sınıfın aritmetik ortalamaları birbirine eşit bulunmuştur. Standart sapmaları incelendiğinde ise A sınıfının standart sapması 5, B sınıfının standart sapması 20 olarak hesaplanmıştır.

Buna göre aşağıdakilerden hangisi doğrudur?

- A. A sınıfı genel yetenekte B sınıfından daha başarılıdır.
- B. B sınıfındaki öğrencilerin genel yetenek seviyesi birbirine yakındır.
- C. A sınıfındaki öğrenciler ölçülen özellik bakımından daha farklıdır.
- D. B sınıfındaki öğrencilerin genel yetenek seviyesi daha heterojendir.
- E. B sınıfının genel yetenek düzeyi A sınıfının dört katıdır.

46. Yaratıcılık becerisini ölçmek için aşağıdaki soru tiplerinden hangisi tercih edilmelidir?

- A. Açık uçlu
- B. Çoktan seçmeli
- C. Kısa cevaplı
- D. Eşleştirme
- E. Boşluk doldurma

47. Bir maddeye ilişkin alt-üst grup madde analizi yapılmıştır. Her iki grupta da maddeyi doğru cevaplayan kişi sayısı eşit olduğu görülmüştür.

Buna göre bu madde ile ilgili aşağıdakilerden hangisi söylenebilir?

- A. Maddenin ayırt edicilik düzeyi yüksektir.
- B. Madde zor bir maddedir.
- C. İşe alım sınavları için uygun bir maddedir.
- D. Madde bireyleri birbirinden iyi ayırt etmiştir.
- E. Maddenin ayırt edicilik düzeyi sıfırdır.

48. Esra Öğretmen hazırladığı sınavda ölçülmesi gereken kazanımları ve bilişsel düzeyleri tablo haline getirmiş ve soruları bu tablodaki dağılıma göre hazırlamıştır.

Esra Öğretmen'in bu tabloyu kullanmasının temel sebebi aşağıdakilerden hangisini sağlamaya yöneliktir?

- A. Yordama geçerliği
- B. Yapı Geçerliği
- C. Kapsam Geçerliği
- D. Güvenirlik
- E. Objektiflik

**BAYRAKLI BELEDİYESİ PERSONEL HİZMETLERİ SAN. VE TİC. A.Ş.
ANAOKULLARI ÖĞRETMEN SEÇME SINAVI**

49. Aşağıdaki öğretmen davranışlarından hangisi demokratik sınıf yönetimi açısından uygun değildir?

- A. Sınıf topluluğunu ilgilendiren kararlarda her bir öğrenciye sınıfı etkileme fırsatı sunmak.
- B. Sınıf içi öğretimsel uygulamalara karar vermede öğrencilerin görüşlerine başvurmak.
- C. Çoğunluğa dayalı alınan kararların uygulanmasında her koşulda ısrarlı olmak.
- D. Öğrencilere, öğretmenlerini değerlendirme olanakları tanımak.
- E. Öğrencilerden kurallara uymak kadar kural ihlallerine karşı da duyarlı olmalarını beklemek.

50. Demokratik sınıf yönetimi ile ilgili bir seminerde bir eğitim bilimci katılımcılara şöyle seslenir: 'Öğretmenler her ne kadar sınıfta öğrencilerin rahat etmesi ve güvende olmaları için çaba harcasalar da, öğrencileri asıl güdüleyen uygulamaların bunlar olmadığını görmelidir. Öğrencilerin fikirlerini demokratik bir sınıf ortamında ifade edebilmeleri için onlara fırsatlar sunmak, yine proje çalışmalarına katılarak özgün çözümler geliştirmeye yönelik uygulamalar yapmak, onları daha çok güdüleyecektir. Sınıfa rahat koltuklar alındığında öğrenciler önceki rahatsız edici sandalyelerden kurtulduklarına sevineceklerdir. Muhtemelen bu konudaki şikayetleri de azalacaktır, ancak bunun etkisi kısa sürecektir. Çünkü asıl güdüleyici uygulamalar bunlar değildir. En azından Kuramı bize böyle söylüyor.'

Yukarıda bırakılan boşluğa aşağıdaki kuramlardan hangisi getirilmelidir?

- A. Herzberg'in Çift Etmen Kuramı
- B. Maslow'un İhtiyaçlar Hiyerarşisi Kuramı
- C. Bandura'nın Özyeterlilik Kuramı
- D. Adams'ın Eşitlik Kuramı
- E. Vroom'un Beklenti Kuramı

51. Aşağıdaki etmenlerden hangisi demokratik bir sınıf yönetimi anlayışında, sınıf içi öğretim etkinliklerini düzenlerken diğerlerine göre dikkate alınması gerekli öğelerden biri değildir?

- A. Öğrencilerin gereksinimleri
- B. Öğrencilerin duyuşsal özellikleri
- C. Öğrencilerin bilişsel hazırbulunuşluğu
- D. Öğrencilerin baskın zeka türlerine göre dağılımı
- E. Öğrencilerin fiziksel benlik algısı

52. Demokratik bir sınıf yönetiminde sınıf içi gruplarla ilgili aşağıdaki ifadelerden hangisi yanlıştır?

- A. Grup üyeleri arasında akademik ve duygusal beklentiler dengeli değilse, grupta sömürmeye dayalı bir etkileşim olasılığı yüksektir.
- B. Karşılıklı bağımlılık, etkileşim ve paylaşılan ortak amaçlar, grubu kalabalıktan ayıran özelliklerdir.
- C. Grup iletişimi göreve, rollere ve grup üyelerinin özelliklerine göre değişir.
- D. Sınıftaki informal gruplar, çalışma gruplarını oluştururken dikkate alınmamalıdır.
- E. Farklı zeka türlerinde öğrencilerin bir araya getirilmesi grubun verimliliğini artırabilir.

53. Aşağıdakilerden hangisi sınıf içi öğretim etkinliklerinin düzenlenmesinde yapılandırmacı öğretmenlik rollerinden biri değildir?

- A. Planlar esnek ve seçeneklidir.
- B. Öğretmenin temel rolü kolaylaştırıcılıktır.
- C. Öğrencilerin kendi yapılarını oluşturması teşvik edilir.
- D. Gerçek durumlara ve nesnelere sıklıkla yer verilir.
- E. Öğretmen nesnel bilgileri aktarmaktan sorumludur.

BAYRAKLI BELEDİYESİ PERSONEL HİZMETLERİ SAN. VE TİC. A.Ş.
ANAOKULLARI ÖĞRETMEN SEÇME SINAVI

54. Aşağıdakilerden hangisi demokratik bir sınıf yönetiminde, öğrencilerin içsel motivasyonlarını artırmaya yönelik bir uygulama değildir?

- A. Öğrencilere sorunun çözümüne kendi katkılarını sunmaya teşvik etmek.
- B. Öğrencilere etkinlik sonrası ödül vaat etmek.
- C. Öğrencilerin yeteneklerinin dikkate alındığı ödevler vermek.
- D. Öğrencinin etkinlikler için plan oluşturmasına yardım etmek.
- E. Öğrencilerde merak duygusunu canlandırmak.

55. “Sınıfta sürekli istenmeyen davranışlar sergileyen öğrencinin asıl sorununun dışlanmışlık olduğunu saptayan öğretmen, ona iş birliği gerektiren etkinliklerde iyi olduğu alanlarda görev vererek, bir gruba ait olma, benimsenme ve takdir görme ihtiyacını karşılamasını sağlayarak bu olumsuzluğu gidermeye çalışır.”

Öğretmen bu davranışıyla hangi güdüleme kuramına uygun davranmıştır?

- A. Covington’un Özdeğer Kuramı
- B. Maslow’un Gerekkenimler Hiyerarşisi Kuramı
- C. Locke ve Latham’ın Hedef Belirleme Kuramı
- D. McClelland’ın Başarma İhtiyacı Kuramı
- E. Heider’in Yükleme Kuramı

56. Aşağıdakilerden hangisi demokratik bir sınıf ikliminin göstergeleri arasında yer almaz?

- A. Öğrencilerin farklı derslerdeki çalışmalarının sergilendiği panolar.
- B. Öğretmenin, öğrencilerle onları yüreklendirici bir iletişim kurması.
- C. Sınıfta çok yönlü etkileşime uygun oturma düzenleri.
- D. Okul yönetimi tarafından belirlenen kuralların paylaşıldığı görseller.
- E. Öğrencilerin konularla ilgili dile getirdikleri görüşlerin sınıfta ciddiye alınması.

57. Demokratik sınıf yönetimi için uygun bir modeldir. Modele göre insanlar kendi davranışlarını yönetmeyi öğrenebilir. Öğrenciler davranışlarının sorumluluğunu üstlenebilir. İnsan davranışları gereksinimleri gidermeye yöneliktir. Her birey kendi gereksinimlerini farklı yollardan doyurur. Dolayısıyla sınıf içerisindeki etkinlikler öğrenci gereksinimleriyle örtüşmelidir. Öğretmen, öğrencilerini gerçek yaşam şartlarına hazırlayacak şekilde sorumluluk sahibi olmaları için çaba harcamalıdır.’

Yukarıda özellikleri belirtilen sınıf disiplin modeli aşağıdakilerden hangisidir?

- A. Canter’in Etkin Disiplin Modeli
- B. Glasser’in Gerçekçi Terapi Modeli
- C. Kounin’in Grup Dinamiği Modeli
- D. Skinner’in Davranış Değişirme Modeli
- E. Gordon’un Etkili Öğretmenlik Modeli

BAYRAKLI BELEDİYESİ PERSONEL HİZMETLERİ SAN. VE TİC. A.Ş.
ANAOKULLARI ÖĞRETMEN SEÇME SINAVI

58. Demokratik bir sınıf yönetiminde tercih edilecek zaman yönetimi yaklaşımını belirlemede sınıfta zaman yönetimini etkileyen etmenlerin bütüncül biçimde ele alınması ve sorunu etkileyen tüm değişkenlerde düzenleme yapılması gerekmektedir. Örneğin, zaman yönetimi konusundaki sorunların çevresel, sosyal, kültürel veya psikolojik nedenlere dayalı olarak ortaya çıkabileceği ve zaman yönetimi konusunda okuldaki işlerin zamanında yapılmasının veya derse giren tüm öğretmenlerin bu konudaki duyarlılıklarının dahi sınıfa yansımalarının olacağı varsayılır.

Yukarıda öğretmenlere önerilen zaman yönetimi yaklaşımı aşağıdakilerden hangisidir?

- A. Hedef belirleme
- B. İyileştirme
- C. Düzenli yaşama
- D. ABC
- E. Kendini akıntıya bırakma

59. ‘Öğretmen, sınıfın her yerinde bulunuyor, öğrencilere onların her türlü davranışının farkında olduğu izlenimini veriyordu. Öğrencilerin zaman zaman gösterdikleri olumsuz davranışların, sınıfın tümünü etkilememesi için gereken tepkiyi anında gösterirken, diğer yandan sınıfta ilgiyi sürekli canlı tutmaya çalışıyordu.’

Yukarıda tanımlanmaya çalışılan sınıf disiplin modeli aşağıdakilerden hangisidir?

- A. Skinner’in Davranış Değiştirme Modeli
- B. Ginot’un Uyumlu İletişim Modeli
- C. Dreikurs’un Ussal Sonuçlar Modeli
- D. Glasser’in Gerçekçi Terapi Modeli
- E. Kounin’in Grup Dinamiği Modeli

60. Bu eğitim modelinde demokratik sınıf yönetimi anlayışı çerçevesinde öğrencinin kendi gelişimini yönetmesine izin verilmiştir. Laboratuvarlar, diğer bir deyişle ders odaları, bu modelin ayrılmaz bir parçasıdır. Laboratuvar kelimesi öğrenci ve öğretmen arasındaki birebir veya küçük gruplar halindeki çalışma, araştırma ve iş birliğini tanımlamaktadır. Öğretmenler, öğrencilerle birebir veya küçük guruplar halinde çalışarak, araştırma yaparak ve iş birliğini sağlayarak eğitim sürecini yönetirler. Öğrencinin günlük çalışmaları hem öğrenci hem de öğretmen tarafından izleme kartlarına işlenmektedir. Bireysel çalışmaların yanı sıra, bu çalışmaların değerlendirildiği günlük toplu çalışmalar yapılmaktadır.

Yukarıda sözü edilen eğitim modeli aşağıdaki seçeneklerden hangisidir?

- A. Dalton Modeli
- B. Montessory Modeli
- C. Reggio Emilia Modeli
- D. Waldorf Modeli
- E. Highscope Modeli

BAYRAKLI BELEDİYESİ PERSONEL HİZMETLERİ SAN. VE TİC. A.Ş.
ANAOKULLARI ÖĞRETMEN SEÇME SINAVI

GENEL KÜLTÜR - GENEL YETENEK SORULARI

61. 2020 Tokyo Olimpiyatlarına 10 voleybol takımı katılmıştır. Her takım diğer takımlarla ikişer kez karşılaşmıştır. Turnuvada görevlendirilen 5 hakem arasından her karşılaşma için 3 hakem belirlenmiş ve tüm hakemler eşit sayıda karşılaşmada görev almıştır.

Buna göre, bir hakemin görev aldığı karşılaşma sayısı kaçtır?

- A. 45 B. 48 C. 50 D. 54 E. 58

62. \boxed{X} : x ten küçük olan asal sayıların sayısı

$\bigcirc Y$: y den küçük olan asal sayıların toplamı

şeklinde tanımlanan işlemlere göre,

$\boxed{\bigcirc 20$ }

işleminin sonucu kaçtır?

- A. 15 B. 17 C. 36 D. 45 E. 55

63. x ve y birer tam sayıdır.

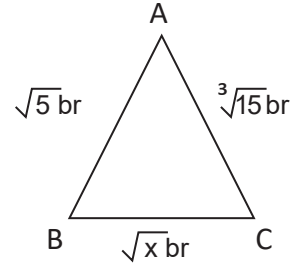
$$-3 < x < 5$$

$$-4 \leq y < 2$$

olduğuna göre, x^2+2y ifadesinin alabileceği en küçük değer kaçtır?

- A.-9 B. -8 C.-7 D.-6 E.-5

64.



Yukarıda verilen üçgenin kenar uzunlukları arasında

$$|\sqrt{x} - \sqrt{5}| + |\sqrt{x} - \sqrt[3]{15}| = |\sqrt[3]{15} - \sqrt{5}|$$

bağıntısı bulunmaktadır.

Buna göre, x in kaç farklı tam sayı değeri vardır?

- A. 0 B. 1 C. 2 D. 3 E. 4

65. $P(x+1) = (x-2)^3 + 1$ polinomu veriliyor.

Buna göre, $P(x+4)$ polinomunun sabit terimi, $P(x+2)$ polinomunun katsayılar toplamından kaç fazladır?

- A. 1 B. 2 C. 3 D. 4 E. 5

**BAYRAKLI BELEDİYESİ PERSONEL HİZMETLERİ SAN. VE TİC. A.Ş.
ANAOKULLARI ÖĞRETMEN SEÇME SINAVI**

66. Bir perdecı, ölçü almak için ırağından 1 m uzunluğunda bir tahta parçası yaptırmasını istemiştir. Fakat ıarak tahta parçasını yanlışlıkla 90 cm uzunluğunda yaptırmıştır. Perdecı boyutları 1,8 metreye 2,7 metre olan dikdörtgen şeklindeki perdecıyı ırağın yaptırdığı tahta parçası ile ölçüp, bu ölçüme göre perdenin fiyatını hesaplamış ve müşteriğine satmıştır.

Perdenin metrekare fiyatı 100 TL olduğuna göre, perdecı müşteriğinden kaç TL fazla almıştır?

- A.106 B.108 C.110 D.112 E.114

67. 120 metrelik bir parkuru, sabit hızlarla koşan üç atletten; birinci atlet ikinciden 3 metre, ikinci atlet üçüncüden 4 metre önde bitiriyor.

Buna göre birinci atlet yarışı üçüncüden kaç cm önde bitirir?

- A.650 B.660 C.670 D.680 E.690

68. 36 litre ayıçek yağı ve 45 litre zeytinyağı birbirine karıştırılmadan eşit hacimli şişelere doldurulacaktır.

Buna göre, bu iş için en az kaç şişeye ihtiyaç vardır?

- A.8 B.9 C.10 D.11 E.12

69.

$$\frac{8^4 + 8^4 + 8^4 + 8^4}{4^2 \cdot 4^2 \cdot 4^2}$$

işleminin sonucu kaçtır?

- A. 2⁰ B. 2¹ C. 2² D. 2³ E. 2⁴

70. 50 basamaklı 347347347...734 sayısının 9 ile bölümünden kalan kaçtır?

- A. 4 B. 5 C. 6 D. 7 E. 8

BAYRAKLI BELEDİYESİ PERSONEL HİZMETLERİ SAN. VE TİC. A.Ş.
ANAOKULLARI ÖĞRETMEN SEÇME SINAVI

71. Aşağıdaki yargılardan hangisi kişisel düşünce içermemektedir?

A. Yakup Kadri Karaosmanoğlu bence edebiyatımızın önde gelen sanatçılarından biridir. Roman, hikâye, anı gibi değişik alanlarda eserler vermiş olan sanatçı daha çok romanları ile tanınmaktadır. Romanlarında önceleri kişisel konuları işleyen sanatçı daha sonra toplumsal konulara yönelmiştir.

B. Bana sorarsanız kış aylarında sazın balığı avlamak, diğer mevsimlere nazaran çok daha zordur. Bu aylarda su yüzeyi çok soğuk olduğu için sazınlar, yaşadığı göletlerin en derin yerlerine gider ve kolay kolay sığ bölgelere uğramazlar, zira göletlerin en derin yerleri, kış aylarında en sıcak alanlardır.

C. Öykü, boyutu ne olursa olsun, doğaya ve insana özgün bir bakış, özgün bir eleştiridir. Her insanın yaşamına yeni anlamlar, yöntemler, yorumlar getiren bir yazın sanatıdır. İster içten ister dıştan anlatsın; ister bir kişiyi, ister bir toplum kesitini anlatsın bir öykünün özentsiz, yalın, açık, gerçek, inandırıcı, kısa, vurgulayıcı ve çarpıcı nitelikte olması gerekir.

D. Malatya, Doğu Anadolu Bölgesi'nde yer alan büyük şehirlerimizden biridir. Doğusunda Elazığ, batısında Kayseri, kuzeyinde Sivas, güneyinde ise Adıyaman illeri bulunmaktadır. Nüfusu 773.000 civarındadır. Toplamda 14 ilçesi bulunmaktadır. Malatya, kayısı diyarı olarak bilinir. İlde yetişen kayısılar, dünya genelinde ünlüdür.

E. Teknik, bilimin kristalize olmuş halidir. Yani bilimin araç-gereç ve makineye dönüşmüş halidir. İnsanoğlu yalnızca onun sayesinde ilkçağların karanlığından sıyrılmıştır. Kendine daha çok zaman ayırıp kültürel yönden olgunlaşmıştır. Birbirini sevmeyi, barış içinde bir arada yaşamayı öğrenmiştir.

72. Aşağıdaki cümlelerin hangisi yalnızca yüklemden oluşmaktadır?

A. Halk edebiyatı ürünlerinde, söylendikleri veya yaşatıldıkları devir ve çevrenin yaygın Türkçesi kullanılmıştır.

B. Halkın içinden doğan eserler, konu, tema ve duyarlık bakımından halkın hayatına sıkı sıkıya bağlıdır.

C. Şiirler işledikleri konuya göre güzelleme, koçaklama, ilahi, ağıt ve taşlama gibi isimler almıştır.

D. 18. yüzyıldan itibaren halk şairleri, divan şairlerinden etkilenecek aruzun belirli kalıplarıyla şiirler yazmayı denemişlerdir.

E. Halkın zevkini karşılamak için sözlü olarak ortaya konan, kendine özgü bir dili ve üslubu bulunan edebiyat koludur.

BAYRAKLI BELEDİYESİ PERSONEL HİZMETLERİ SAN. VE TİC. A.Ş.
ANAOKULLARI ÖĞRETMEN SEÇME SINAVI

73. Bir söylenenin, diğer söylenenlerle gerçeklik veya doğruluk açısından aynı niteliği taşıması gerekir. Kişinin anlattıkları önceki anlattıklarıyla çelişmemelidir, yaptıklarına ters düşmemelidir. Aksi durumda metin bir bütün olarak bakıldığında okuyucuda kafa karışıklığına neden olur.

Aşağıdakilerden hangisi bu parçada eleştirilen bakış açısıyla yazılmıştır?

A. Öykü ile şiir akraba türlerdir. Ancak şiir, sanatçıya çektirdiği çile bakımından öyküden daha zorlayıcıdır. Seçilen sözcüklerin çağrışım değeri taşıması, şiiri yoğun ve değerli kılan bir özelliktir. Çağrışım değeri olan sözcükleri seçmek sıkıntılı bir süreçtir şair için. Bu bakımdan, şiir, öyküye asla yaklaşamaz.

B. Ayağa kalktı. Elindeki kadehi kafasına dikti. Ortalıkta dolaşmaya koyuldu. Salınarak geziniyor. Duvardaki tabloların önünde duruyor. Ağırlığını bir yüksek ökçeli ayakkabıdan ötekine aktarıırken... Ne kötü bir sanatçı taklidi! Gözlerini kısarak bakıyor tablolara, anlamış gibi.

C. Kulübeden çıktı ve göle doğru yürüdü. Böğürtlenlerle kaplı kırmızı toprakları geçti. Mor püsküllü çiçekler açmış devedikenlerine, sabahın ilk ışıklarıyla birlikte güneşe dönen İrlanda yoncalarına baktı. Gri bir pusla kaplı gölün yüzeyinde oluşan beyaz köpüklü dalgaları inceledi.

D. Kahkahalarımızın ortamdakilere rahatsızlık verdiğinin farkına vardığımızda çok geç kalmamakla birlikte belli bir mahcubiyet duygusuyla hareket edip her bir yöne rastgele dağıldığımızda gece çoktan yerini bırakmaya hazırlanıyordu sabaha.

E. Yalnızsınızdır; etrafınız her daim yosun kokulu bir tülle sarılı, biraz bulanık, biraz titrektir sanki... Yaşadığımız hiçbir anın içinde değilsinizdir, hep bir başka anı yaşar zihniniz ve baktığınız hiçbir yeri görmezsiniz aslında, hep bir başka yerin hayaliyle bulduğunuz yerin gerçekliğini birbirine karıştırır gözleriniz...

74. Gök bilimi yeryüzündeki en eski bilimlerden (I) biri olarak kabul edilir. Arkeolojik bulgular (II) en eski çağlarda bile insanların gök biliminin konuları hakkında bilgileri olduğunu ortaya koymaktadır. Neolitik çağda insanlar ekinoksların periyodik karakterini, mevsimlerle ilişkisini (III) ve bazı takımyıldızları bilmekteydiler. Modern gök bilimi gelişimi (IV), özellikle antik çağdaki ve onları izleyen materyalistlere ve Ortaçağ'ın sonunda keşfedilmiş gözlem (V) aletlerine borçludur.

Yukarıda numaralanmış altı çizili sözcüklerden hangisinin kökü diğerlerinden farklıdır?

A. I B. II C. III D. IV E. V

75. Aşağıdaki cümlelerin hangisinde sayıların yazımıyla ilgili bir yanlışlık yapılmıştır?

A. Bu yıl turnuvaya beş yüz elli kişinin katılacağı duyuruldu.
B. Saat dokuzu beş geçte ülke derin bir sessizliğe gömülecekti.
C. Bu buluşlar X. yüzyılı bir dönüm noktası haline getirmişti.
D. 1 milyar 300 milyon kişinin göç edeceği tahmin ediliyor.
E. Hazırladığı paketleri 3'er 3'er dağıtmak için işe koyuldu.

**BAYRAKLI BELEDİYESİ PERSONEL HİZMETLERİ SAN. VE TİC. A.Ş.
ANAOKULLARI ÖĞRETMEN SEÇME SINAVI**

76. İstanbul'a kadar yalnız onu görmeye geldim.

Aşağıdakilerden hangisinde bu cümledeki altı çizili sözcükle aynı görevde bir sözcük kullanılmıştır?

- A) Fotoğraflar güzel yalnız renkleri biraz soluk.
- B) Yasalarda belirtildiği üzere bu bir suçtur.
- C) Köyünü, yaşlı dedesini ve ninesini özlemişti.
- D) Evle okul arasında mekik dokuyor.
- E) Başarı hakkınız ama terlemeniz gerekecek.

77. Başımızın üstünde her zaman yeşil () iğne yapraklı dallardan örülü bir çatı var () Dallar öylesine sık ki güneş ışığı aşağıya süzülemez bile () Ormanın içine doğru kilometrelerce uzayıp giden toprak bir yol () Çevredeki çiçeklerin insanı bayıltıcı kokusu () kuşların tatlı nağmeleri ()

Bu parçada yay ayrıçla () belirtilen yerlere aşağıdakilerin hangisinde verilen noktalama işaretleri sırasıyla getirilmelidir?

- A. (,) (:) (...) (.) (,) (.)
- B. (,) (.) (,) (!) (,) (...)
- C. (;) (.) (.) (...) (,) (.)
- D. (,) (.) (...) (.) (,) (...)
- E. (,) (.) (.) (...) (,) (...)

78. Yaşamdan yola çıkmayan, sığ, okuma tembelliğine yol açan, yaratma cesaretinden yoksun ve ders veren anlatılar, romansal düşüncenin askıya alındığı ucuz bir bildircilik durumundan öteye geçemez. Bu anlatılar, insanı, onun acılarını, çelişkilerini derinlik ve incelikte yansıtır dile getirmeyi kesinlikle başaramaz. Bu yüzden her nitelikli gerçek yazınsal yapıt, özellikle kişinin varoluşsal hâllerini anlatmalı. Böyle bir anlatımdan yoksunsa, o gerçek bir yapıt sayılamaz.

Bu parçanın anlatımında aşağıdaki anlatım biçimlerinden hangisine başvurulmuştur?

- A. Betimleme
- B. Tartışma
- C. Açıklama
- D. Öyküleme
- E. Tanımlama

79. **Aşağıdakilerin hangisi bir paragrafın ilk cümlesi olmaya uygundur?**

- A. Bunlar halkın ağaca verdiği önemi gösterir.
- B. Ağaç sevgisi de halkımızın değerlerindedir.
- C. Ağaç sevgisi insanın iç güzelliğinin dışa vurmasıdır.
- D. Yani ağaç sevgisi toplumumuzun belleğine kazınmıştır.
- E. Ağaç sevgisini de küçük yaşta aşlamak gerekir.

**BAYRAKLI BELEDİYESİ PERSONEL HİZMETLERİ SAN. VE TİC. A.Ş.
ANAOKULLARI ÖĞRETMEN SEÇME SINAVI**

80. (I) Tarihsel süreç içerisinde varlığını yazılı hukuk kurallarından daha önce oluşturan kültürün, hukuk ve kültür ilişkisinde daha etkin bir role sahip olması olağan bir durumdur. (II) Bu husus aynı zamanda hukukun antropolojik yanının da bir göstergesidir. (III) Kültür ile hukuk arasındaki etkileşimde kültür etkin rolünü, örf, adet, gelenek ve ahlak kuralları gibi sosyal normları kullanarak ortaya koyar. (IV) Kültür öğelerinden ayrı olarak hukuku ele almak hukukun içinde yetiştiği toplumun değer yargılarına uzak kalmasına sebep olur. (V)

Yukarıdaki parçada, anlam akışına göre “Bu sayede hukuk toplum ve birey nezdinde daha meşru ve anlaşılır bir hal alır.” cümlesi numaralandırılmış yerlerden hangisine getirilebilir?

- A. I
- B. II
- C. III
- D. IV
- E. V

**BAYRAKLI BELEDİYESİ PERSONEL HİZMETLERİ SAN. VE TİC. A.Ş.
ANAOKULLARI ÖĞRETMEN SEÇME SINAVI**

81. Aşağıdakilerden hangisi Erzurum Kongresinde alınan kararlar sonucu ortaya çıkan gelişmelerdendir?

- A) Cemiyetlere ulusu temsil etme yetkisinin verilmesi
- B) Misak-ı Millinin hatlarının belli olması
- C) Misak-ı Millinin kabul edilmesi
- D) Mustafa Kemal'e başkomutanlık yetkisinin verilmesi
- E) Düzenli ordunun kurulması

82.

- I. Kütahya Eskişehir
- II. Büyüktaaruz
- III. Birinci İnönü
- IV. Sakarya Meydan Muharebesi

Yukarıda verilen Kurtuluş Savaşı muharebelerinin doğru kronolojik sıralaması aşağıdakilerden hangisidir?

- A) II, I, IV, III
- B) I, II, III, IV
- C) III, II, I, IV
- D) III, I, IV, II
- E) III, IV, II, I

83. Aşağıda verilenlerden hangisi yanlıştır?

- A) Mustafa Kemal Samsun'a asayişini sağlamak için çıkmıştır.
- B) Samsun Raporuyla bölgenin işgalini ve huzursuzluğunun haksız olduğu ortaya konmuştur.
- C) Amasya Genelgesi sadece Mustafa Kemal tarafından çıkarılarak imzalanmıştır.
- D) Amasya Genelgesi Kurtuluş Savaşının gerekçe, yöntem ve amacını belirtir.
- E) Sivas Kongresi İstanbul hükümeti tarafından engellenmeye çalışılmıştır.

84. Sevr Antlaşmasıyla ilgili olarak aşağıda verilen bilgilerden hangisi yanlıştır?

- A) Osmanlı Devleti tarafından şuarayla imzalanmıştır.
- B) Hadi Paşa, Halis Paşa ve Rıza Tevfik tarafından imzalanmıştır.
- C) Osmanlı Devleti'ni fiilen bitirmeyi amaçlar.
- D) Avrupalı Devletlerin uzun süreden beri planladıkları Osmanlı topraklarını parçalamayı amaçlar.
- E) Mustafa Kemal tarafından olumlu karşılanarak, Antlaşmanın üzerinde çalışıldığında olumluya dönüşebileceği dile getirilmiştir.

85.

- I. Batı Cephesi - Yunanlılar
- II. Güney Cephesi - Fransızlar
- III. Doğu Cephesi - İngilizler

Yukarıda verilen cephe ve savaşılan devlet orduları eşleştirmelerinden hangisi yanlıştır?

- A) Yalnız I
- B) I ve III
- C) Yalnız III
- D) I, II ve III
- E) Yalnız II

**BAYRAKLI BELEDİYESİ PERSONEL HİZMETLERİ SAN. VE TİC. A.Ş.
ANAOKULLARI ÖĞRETMEN SEÇME SINAVI**

86. Lozan Antlaşmasıyla ilgili olarak aşağıda verilen bilgilerden hangisi yanlıştır?

- A) İsmet İnönü önderliğinde Heyet tarafından imzalanmıştır.
- B) Kurtuluş Savaşı'nın haklılığını göstermiştir.
- C) Misak-ı Milli sınırlarında bazı alanlardan ödün verilmiştir.
- D) Kapitülasyonlar kaldırılmıştır.
- E) Boğazlarda tam bir yetki sağlanmıştır.

87. Siyasi gelişmelerin kronolojik olarak sıralaması aşağıdakilerden hangisinde doğru olarak verilmiştir?

- a) Samsun Raporu, Havza Genelgesi, Amasya Genelgesi, Erzurum Kongresi, Sivas Kongresi
- b) Havza Genelgesi, Amasya Genelgesi, Samsun Raporu, Erzurum Kongresi, Sivas Kongresi
- c) Amasya Genelgesi, Erzurum Kongresi, Sivas Kongresi, Samsun Raporu, Havza Raporu
- d) Samsun Raporu, Amasya Genelgesi, Erzurum Kongresi, Havza Raporu, Sivas Kongresi
- e) Samsun Raporu, Havza Raporu, Amasya Genelgesi, Sivas Kongresi, Erzurum Kongresi

88. Londra ve Lozan Konferanslarına hem Osmanlı Devleti hem TBMM çağırılmıştır. TBMM, Lozan Konferansı'nda ikilik yaratılmasını engellemek adına aşağıdakilerden hangisi gerçekleştirilmiştir?

- A) Cumhuriyet ilanı
- B) Saltanatın kaldırılması
- C) Halifeliğin kaldırılması
- D) Şeriye ve evkaf vekaletinin kaldırılması
- E) Ankara'nın başkent yapılması

89.

- I. Aşar vergisinin kaldırılması a) 1925
- II. Kabotaj Kanunu b) 1926
- III. Teşviki Sanayi Kanunu c) 1927

Yukarıda ekonomi alanında yapılan inkılaplar ile bu inkılapların tarihleri karışık sıralarda verilmiştir.

Buna göre, inkılapların ve tarihlerin doğru eşleştirmesi aşağıdakilerden hangisidir?


- A) I-a II-c III-b
- B) I-c II-b III-a
- C) I-b II-c III-a
- D) I-a II-b III-c
- E) I-b II-a III-c

90. Aşağıdakilerden hangisi Lozan'da çözülemeyen ve sonrasında dış politikayı etkileyen sorunlardan değildir?

- A) Hatay Sorunu
- B) Musul Sorunu
- C) Borçlar Sorunu
- D) Doğu Sınırı
- E) Güney Sınırı

BAYRAKLI BELEDİYESİ PERSONEL HİZMETLERİ SAN. VE TİC. A.Ş.
ANAOKULLARI ÖĞRETMEN SEÇME SINAVI

91.

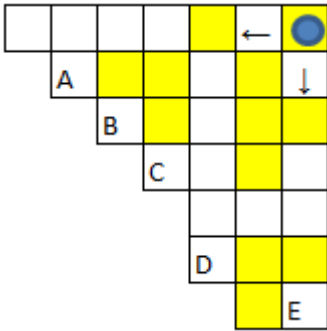


Şekildeki gibi dört kareye bölünmüş bir tahtanın sol üst köşesindeki kareye x adet pirinç konulmuştur. Ardından sağa doğru pirinç sayısını 2 arttırarak, aşağı doğru pirinç sayısını 1 azaltarak tahtadaki her kareye pirinç konulmuştur.

Sol üst köşedeki karede bulunan pirinç sayısı ile sağ alt köşedeki karede bulunan pirinç sayısının toplamı 17 olduğuna göre, bir kareye en çok kaç pirinç konulmuştur?

- A. 9 B. 10 C. 11 D. 12 E. 13

92.



Yukarıda, sarı ve beyaz birim karelerden oluşan tablonun başlangıçta sağ üst köşesindeki sarı birim karede bulunan taş, her adımda o an bulunduğu birim karenin renginden farklı bir birim kareye oklarla gösterildiği gibi ya hemen sağındaki ya da hemen altındaki birim kareye hareket ettirilecektir.

Buna göre bu taş A, B, C, D ve E birim karelerinden hangisine getirilebilir?

- A. A B. B C. C D. D E. E

93.

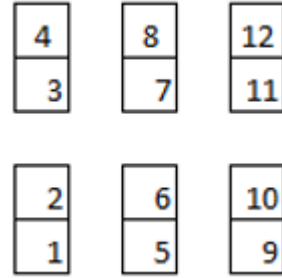


Yukarıda numaraları verilen kutuların bir tanesinde 2 gramlık, diğerlerinde ise birer gramlık bilyeler bulunmaktadır. Her kutudan kutu numarası kadar bilye alınıyor.

Bu bilyelerin toplam ağırlığı 42 gram geldiğine göre, 2 gramlık bilyeler kaç numaralı kutuda bulunmaktadır?

- A.2 B.3 C.4 D.6 E.7

94.



Yukarıdaki gibi bir bölümü verilen bir yolcu otobüsünde yer alan Alper, Beyza, Can, Deniz, Elif, ve Ferda isimli yolcuların oturdukları yerler ile ilgili aşağıdaki bilgiler bilinmektedir.

- Yolcular yalnızca numarası asal sayı olan koltuklarda oturmaktadır.
- Beyza'nın önünde ve arkasında kimse oturmamaktadır.
- Can'ın hemen arkasında Ferda cam kenarında oturmaktadır.
- Deniz en önde oturmamaktadır.
- Alper, Elif'in hemen arkasında oturmaktadır.

Buna göre 7 numaralı koltukta oturan yolcunun ismi nedir?

- A. Alper B. Beyza C. Can
D. Deniz E. Elif

**BAYRAKLI BELEDİYESİ PERSONEL HİZMETLERİ SAN. VE TİC. A.Ş.
ANAOKULLARI ÖĞRETMEN SEÇME SINAVI**

95. Bir toplantıda çay, kahve ve soda ikram edilmektedir. Toplantıya katılanlar arasında;

- çay içmeyen 7 kişi,
- soda içmeyen 6 kişi,
- kahve içmeyen 5 kişi,
- soda ve çay içmeyen 4 kişi,
- çay ve kahve içmeyen 3 kişi,
- soda ve kahve içmeyen 2 kişi,
- her üç içeceği içmeyen 1 kişi

bulunmaktadır.

Her üç içeceği de içen bulunmadığına göre toplantıda kaç kişi vardır?

- A. 6 B. 7 C. 8 D. 9 E. 10

96. Bir köyde beş adama ait farklı bakkalda plastik top, voleybol topu, basketbol topu ve tenis topu satılmaktadır. Bu satılan ürünler hakkında aşağıdaki bilgiler verilmiştir:

- Hüseyin Bey sadece voleybol topu satmaktadır. Başka bakkalda voleybol topu bulunmamaktadır.
- Fehmi Bey ve Rıza Bey'in bakkallarında tenis topu da bulunmaktadır.
- Ali Bey üç alanda ürün satmaktadır.
- Sami Bey basketbol topu satmamaktadır.
- Tenis topu köyde sadece üç bakkalda bulunmaktadır.
- Basketbol topu köyde sadece iki bakkalda bulunmaktadır.

Bu bilgilere göre aşağıdakilerden hangisi kesinlikle yanlıştır?

- A. Tek ürün satan dükkân sadece Hüseyin Bey'in dükkanıdır.
- B. Fehmi Bey plastik top satabilir.
- C. Ali Bey tenis topu satmaktadır.
- D. Rıza Bey plastik top ve basketbol topu satabilir.
- E. Sami Bey ile bir kişi daha tek ürün satmaktadır.

BAYRAKLI BELEDİYESİ PERSONEL HİZMETLERİ SAN. VE TİC. A.Ş.
ANAOKULLARI ÖĞRETMEN SEÇME SINAVI

97. Ayşe, Gamze, Cem, İskender ve İbrahim banka sırasındadırlar.

- İskender, hemen Cem'in önündedir.
- Başta ve sonda kadınlar vardır.
- Ayşe, İbrahim'den hemen sonradır.

Yukarıda verilen bilgilere göre;

- I. İbrahim, Cem'in önündedir.
- II. İskender ile Ayşe arasında üç kişi vardır.
- III. Gamze en ön sıradadır.
- IV. İbrahim dördüncü sıradadır.
- V. Sıralama Gamze, İskender, Cem, İbrahim, Ayşe şeklindedir.

ifadeleri doğru ya da yanlış olarak işaretlendiğinde sıralama aşağıdakilerden hangisidir?

- A. Y - Y - D - D - D
- B. Y - D - D - D - Y
- C. Y - D - Y - D - D
- D. D - Y - Y - D - D
- E. Y - Y - D - Y - D

98. Sinop'ta yaşayan Kader Hanım, şehirde bulunan müzeyi ziyaret etmek istemiş ve önceden giriş bileti almadan müzeye gitmiştir. Aşağıda müzeyle ilgili bilgilere yer verilmiştir:

- Müze, pazartesi günleri hariç ziyarete açıktır. Müze, dini bayramların ilk günlerinde saat 13.00'e kadar kapalıdır. (2019 yılı takviminde Ramazan Bayramı 4-6 Haziran'da, Kurban Bayramı ise 11-14 Ağustos'tadır.)
- Müze ziyaret saatleri, kış ve yaz sezonlarında farklılık göstermektedir.
- 3 Ekim - 14 Nisan arasındaki kış sezonunda müze, 08.00-17.00 saatleri arasında ziyarete açıktır.
- 15 Nisan - 2 Ekim arasındaki dönemi kapsayan yaz sezonunda 09.00-19.00 saatleri arasında ziyarete açıktır.
- Her iki dönemde de müzenin girişindeki bilet gişeleri son ziyaret saatinden 45 dakika önce kapanmaktadır.

Müze girişte sorun yaşamayan Kader Hanım hangi saat ve tarihte müzeye gitmiş olabilir?

- A. 11 Ağustos 2019 Pazar/ saat 12.00
- B. 4 Mart 2019 Pazartesi/saat 14.00
- C. 12 Eylül 2019 Perşembe/ saat 18.00
- D. 15 Şubat 2019 Cuma/ saat 16.30
- E. 26 Nisan 2019 Salı / saat 13.00

**BAYRAKLI BELEDİYESİ PERSONEL HİZMETLERİ SAN. VE TİC. A.Ş.
ANAOKULLARI ÖĞRETMEN SEÇME SINAVI**

99. Ülke genelinde düzenlenen bir satranç turnuvasına üç farklı şehirden Al ve turnuvada kaçıncı olduklarıyla ilgili olarak bilinenler şunlardır:

- Turnuvaya Ali ile Ferit aynı şehirden katılmış, Ferit ikinci olurken Ali ilk üçe girememiştir.
- Turnuvaya farklı şehirlerden katılan Burak ile Emre, turnuvayı Ali'den sonraki bir sırada tamamlamıştır.
- Birinci olan Derya ile sonuncu olan Can turnuvaya aynı şehirden katılmıştır.

Bu bilgilere göre aşağıdakilerden hangisi kesinlikle doğrudur?

- A. Burak turnuvayı altıncı sırada tamamlamıştır.
- B. Emre turnuvayı beşinci sırada tamamlamıştır.
- C. Ali ile Emre turnuvaya aynı şehirden katılmıştır.
- D. Burak ile Gamze turnuvaya aynı şehirden katılmıştır.
- E. Gamze turnuvayı üçüncü sırada tamamlamıştır.

100. Ahmet, Berk, Cemal isimli erkek öğrenciler ile Defne, Elif, Funda, Gül isimli kız öğrenciler konservatuvara girebilmek için aynı gün içinde sırayla yetenek sınavına girmiştir. Adayların sınava giriş sırası ile ilgili olarak aşağıdaki bilgiler verilmiştir:

- İlk sınav 10.00'da yapılmış ve adaylar birer saat arayla sınava alınmıştır. 13.00 – 14.00 saatleri arasında sınava ara verilmiştir.
- Elif sınava 11.00'de girmiştir.
- Cemal sınava üçüncü sırada girmiştir.
- Sınava ilk giren aday erkek değildir.
- Funda sınava Gül'den hemen önce ve öğleden sonra girmiştir.

Bu bilgilere göre aşağıdakilerden hangisi kesinlikle doğrudur?

- A. Sınava ilk giren aday Defne'dir.
- B. Burak sınava dördüncü sırada girmiştir.
- C. Ahmet sınava beşinci sırada girmiştir.
- D. Sınava son giren aday Gül'dür.
- E. Ahmet sınava Burak'tan sonra girmiştir.